

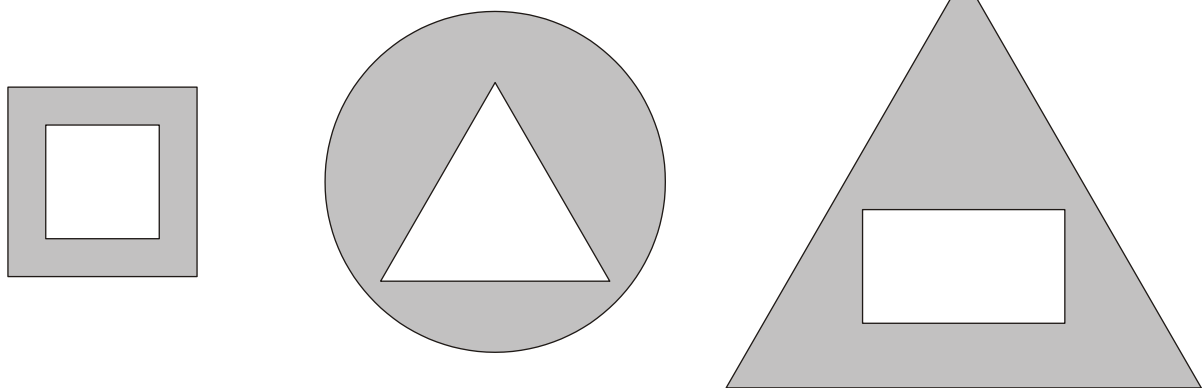
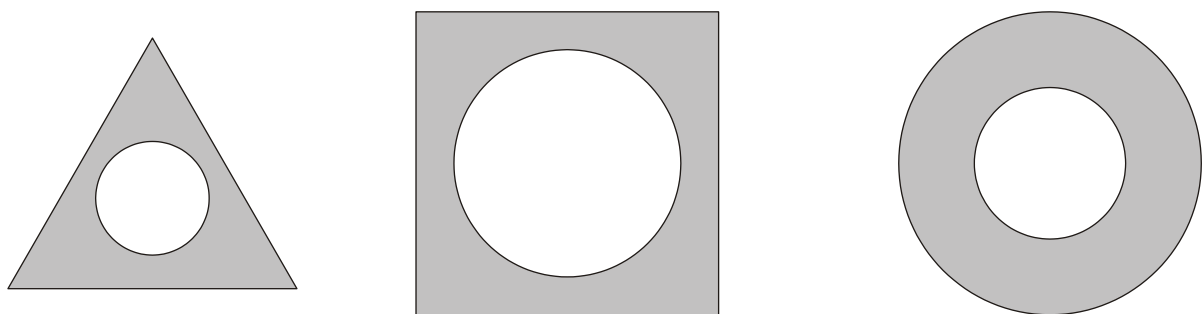
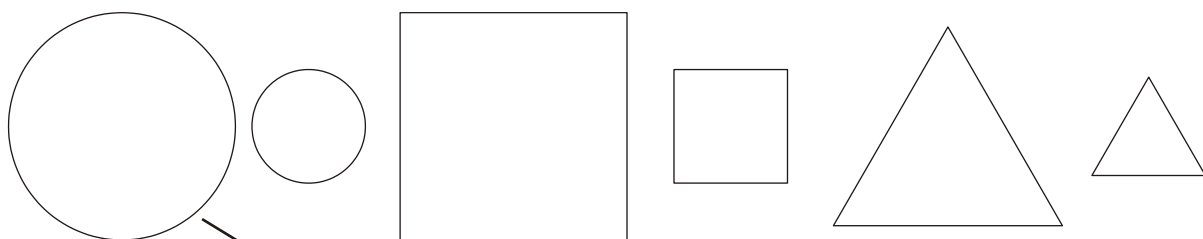


Часът на математиката**Оцвети рисунката, както е посочено:**

Розово – 20, червено – 16, жълто – 15, зелено – 13 и синьо – 17



Коя фигура къде ще поставиш?



Кой загуби повече?

Пет монети,
 Все по две стотинки,
 вчера си загуби Тинка,
 а едничка,
 но от десет,
 някъде търкулна Веса.
 Рече: „Имам си късмет.
 Не е загуба голяма –
 аз една загубих само,
 а пък Тинка – пет!“

.....

Що е то?

$12 - 3 =$	Р
------------	----------

$11 - 9 =$	С
------------	----------

$12 - 8 =$	Е
------------	----------

$12 - 5 =$	Ф
------------	----------

$11 - 8 =$	В
------------	----------

$11 - 6 =$	Т
------------	----------

$12 - 4 =$	А
------------	----------

$11 - 5 =$	О
------------	----------

2	3	4	5	6	7	8	9
					Ф		

Иван има 7 колички. Брат му има колкото него. Колко колички общо имат двете момчета?

Решение:

.....
.....

Стефан има 14 топчета. Девет от тях са стъклени, а останалите пластмасови. Колко пластмасови топчета има Стефан?

Решение:

.....
.....

Емилиян решил 13 задачи. Те са с 8 повече от задачите, които е решил Борко. Колко задачи общо са решили двете момчета?

Решение:

.....
.....

В чантата на Атанас има 4 гумички, 3 химикалки и толкова молива, колкото са гумичките и химикалките общо. Колко гумички, химикалки и молива има в чантата на Атанас?

Решение:

.....
.....
.....
.....

За детска градина купили 10 кг банани и 2 кг по-малко портокали, а сливи – колкото са бананите и портокалите заедно. Колко килограма сливи са купили?

Решение:

.....
.....