





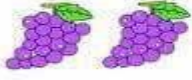





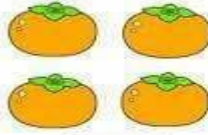



РЕГИОНАЛЕН ЦЕНТЪР
ЗА ПОДКРЕПА НА ПРОЦЕСА НА ПРИОБЩАВАЩОТО ОБРАЗОВАНИЕ-
ХАСКОВО

6300 Хасково, ул."Иглика" №14 етаж 3, тел.: 038/668292, e-mail: rc_haskovo2006@abv.bg

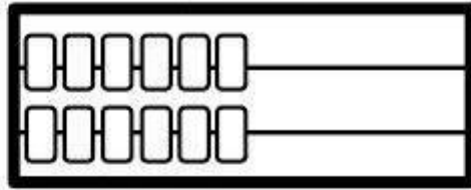
РАБОТЕН ЛИСТ ПО МАТЕМАТИКА

От ресурсен учител: Десислава Георгиева
На: Теменужка Янкова Щерева -4 кл
ОУ "Ш. Петъфи", гр.Хасково

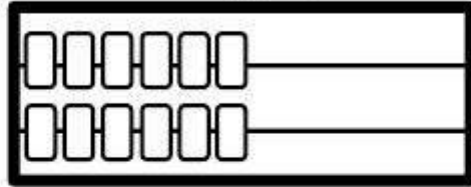
1.Преброй и пресметни

 1	 1		
2		<input type="text"/>	
			
			
<input type="text"/>		<input type="text"/>	
			

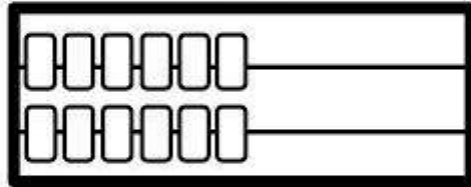
4 ... 1



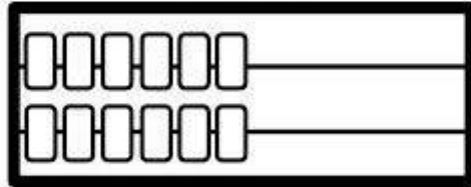
2 ... 3



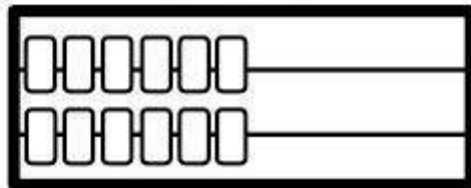
1 ... 3



3 ... 3



4 ... 2



 3 зад. Покажи цифрата и назови числото.

1 2 3 4 5 6 7 8 9 10

10 9 8 7 6 5 4 3 2 1

 4 зад. Прочети цифрите.

5 7 10 8 2 6 9

 5 зад. Преброй топките.





РЕГИОНАЛЕН ЦЕНТЪР
ЗА ПОДКРЕПА НА ПРОЦЕСА НА ПРИОБЩАВАЩОТО ОБРАЗОВАНИЕ-
ХАСКОВО

6300 Хасково, ул."Иглика" №14 етаж 3, тел.: 038/668292, e-mail: rc_haskovo2006@abv.bg

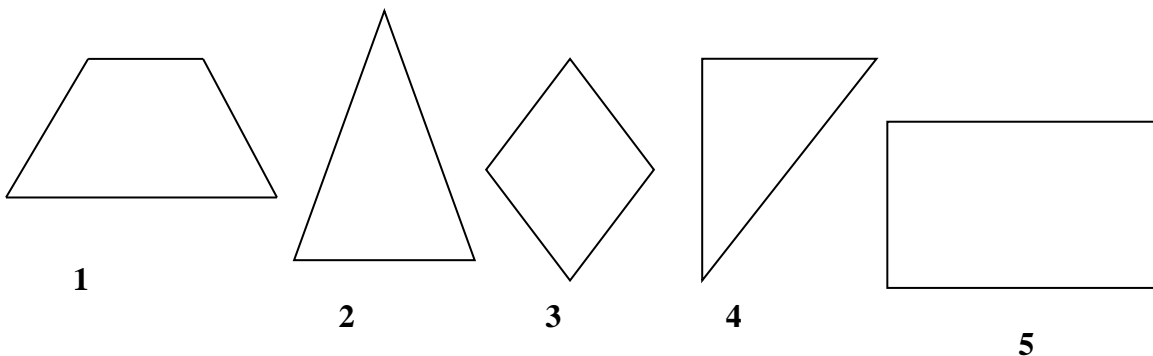
РАБОТЕН ЛИСТ ПО МАТЕМАТИКА

От ресурсен учител: Десислава Георгиева

На: Теменужка Янкова Щерева -4 кл

ОУ "Ш. Петъфи", гр.Хасково

1.Разгледай начертаните фигури, свържи и запиши:



Фигурата има:

Фигурата е:

Правите ъгли са:

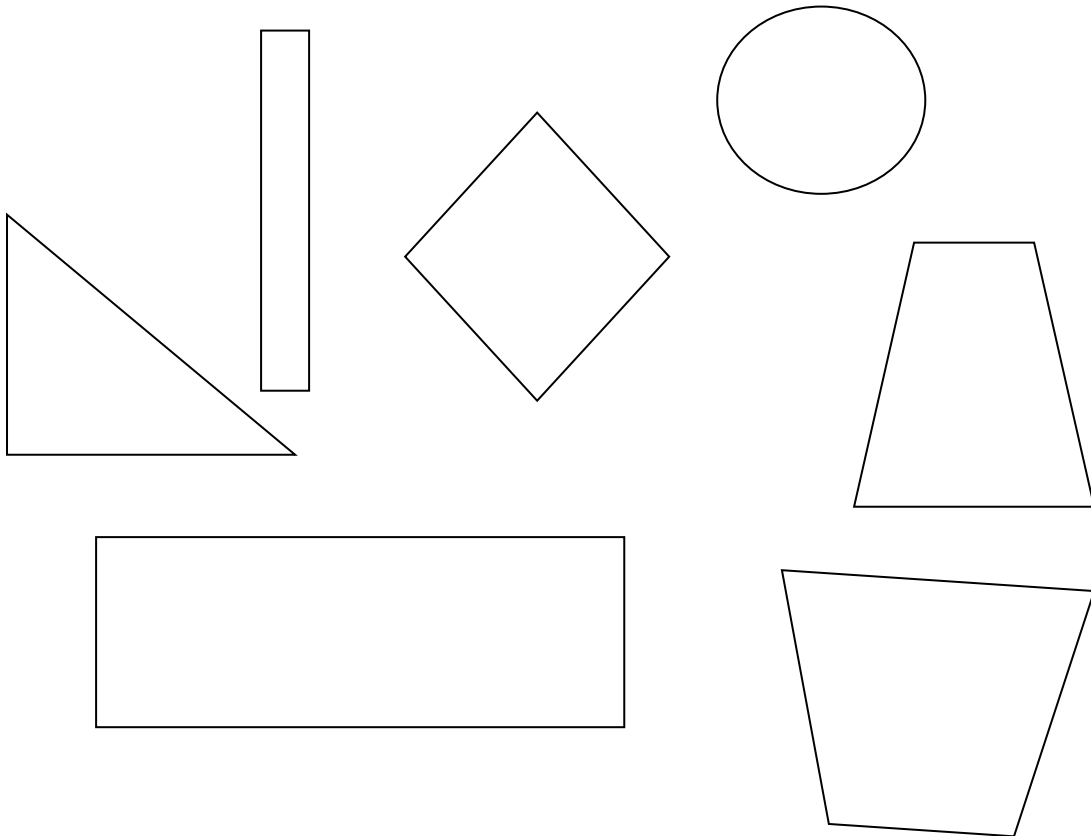
- | | | | | | |
|----|--------------------------------|-------|---|---------------|--------------------------------|
| 1. | <input type="text" value="4"/> | ъгъла | → | четириъгълник | <input type="text" value="0"/> |
| 2. | <input type="text"/> | ъгъла | | | <input type="text"/> |
| 3. | <input type="text"/> | ъгъла | | правоъгълник | <input type="text"/> |
| 4. | <input type="text"/> | ъгъла | | | <input type="text"/> |
| 5. | <input type="text"/> | ъгъла | | триъгълник | <input type="text"/> |

Начертаните четириъгълници са –


Начертаните триъгълници са –

Начертаните правоъгълници са –

2. Огради с червена линия всички четириъгълници, а със синя – всички правоъгълници



3. Помогни на Зайо да стигне до моркова.



$15 - 6$					
$15 - 7$		$16 - 7$			
$15 - 8$	7	$16 - 8$		$17 - 8$	



15 - 9		16 - 9	7	17 - 9		18 - 9	
--------	--	--------	---	--------	--	--------	--

Здравко има 13 рибки, а Яна – с 8 рибки по-малко. Колко рибки има Яна? Колко рибки имат двамата общо?

--	--	--	--	--	--	--	--

.....

--	--	--	--	--	--	--	--

.....

Попълни верижката и ще научиш колко години живее катеричката:

$$8 + 7 \text{ } \textcircled{} \text{ } - 9 \text{ } \textcircled{} \text{ } + 14 \text{ } \textcircled{} \text{ } - 12 \text{ } \textcircled{} \text{ } + 0 \text{ } \textcircled{}$$