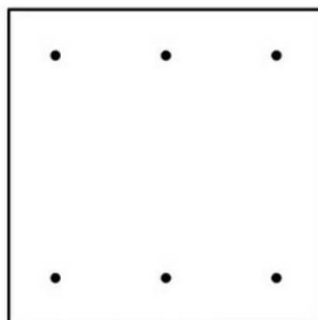
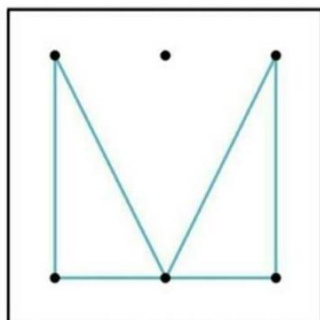
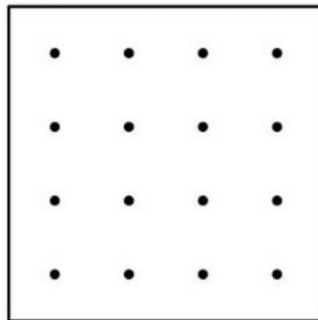
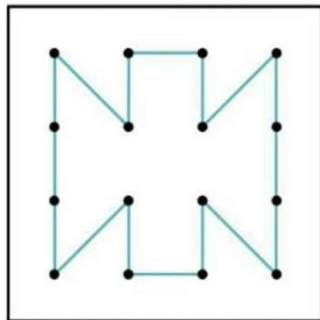


Работен лист по Математика
от ресурсен учител Иванка Канева
на ученика Майк Йорданов Христов, 5 кл., ОУ"Шандор Петьофи"

1. В празните квадратчета на доминото нарисуй липсващите точки, така че да са равни на числото.



2. Свържи точките по модела, който е даден, така че да образуваш същия в празните квадрати.



Работен лист по Математика
от ресурсен учител Иванка Канева
на ученика Майк Йорданов Христов, 5 кл., ОУ"Шандор Петьофи"

1. Напиши с цифра:

Дванадесет

Седемнадесет

Двадесет и пет

Двадесет и седем

Тридесет и пет

Тридесет и седем

Четиридесет и шест

Четиридесет и девет

Петдесет

Петдесет и три

Шестдесет и две

Шестдесет и шест

Седемдесет

Седемдесет и едно

Осемдесет и две

Осемдесет и пет

Деведесет и едно

Сто

2. Открий двете разлики на картинките.

