

Работен лист по Математика
от ресурсен учител Иванка Канева
на ученика Майк Йорданов Христов, 5 кл., ОУ"Шандор Петъфи"

1.Пресметни задачите:

$25+48=$

$54-28=$

$34+27=$

$59-25=$

$63+49=$

$74-37=$

$45+23=$

$58-24=$

$27+56=$

$86-48=$

$54+23=$

$87-24=$

$58+27=$

$48-25=$

$42+43=$

$82-49=$

$24+57=$

$75-48=$

2.Оцвети числата, за които е вярно, че:

$11 < \square < 18$

10	11	12	13	14	15	16	17	18	19	20
----	----	----	----	----	----	----	----	----	----	----

$16 < \square < 19$

10	11	12	13	14	15	16	17	18	19	20
----	----	----	----	----	----	----	----	----	----	----

$10 < \square < 20$

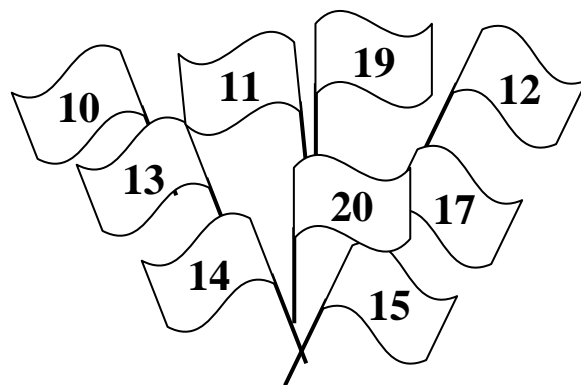
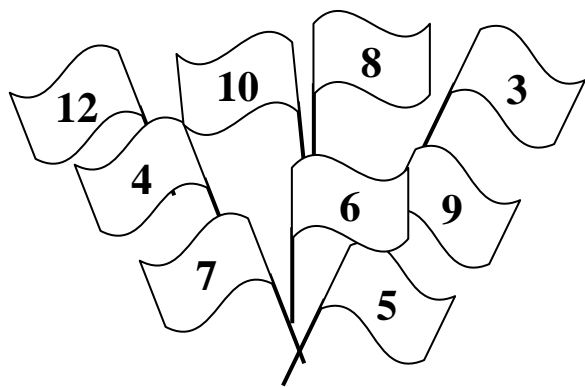
10	11	12	13	14	15	16	17	18	19	20
----	----	----	----	----	----	----	----	----	----	----

$$18 > \square > 12$$

10	11	12	13	14	15	16	17	18	19	20
----	----	----	----	----	----	----	----	----	----	----

3. Оцвети знаменцата, означени с числа:

- по-големи от 7 – в жълто;
- по-големи от 16 – в синьо;
- между 2 и 6 – в червено;
- между 9 и 15 – в зелено;



Работен лист по Математика
от ресурсен учител Иванка Канева
на ученика Майк Йорданов Христов, 5 кл., ОУ"Шандор Петьофи"

1. Числа до 100 упражнение:

Довърши верижките, като допълниш числата в нея.

10	20	30	40						100
61	62	63	64						70

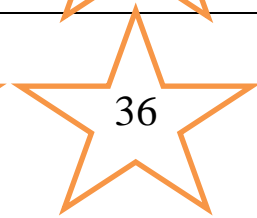
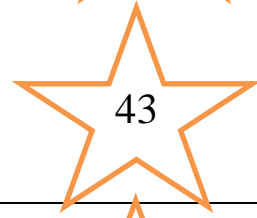
2. По-голяма, по-малка.....

Разгледай облачетата и огради тези в които написаната цифра е по-голяма.

51	42
76	24
49	76
34	87

Разгледай слънцата и огради тези, в които написаната цифра е по-малка.

94	45
26	45
45	74
23	



3. Огради

Огради най-малката кола.

Огради най-голямото мече.

Оцвети най-малката топка.

Оцвети най-големия пумпал.

