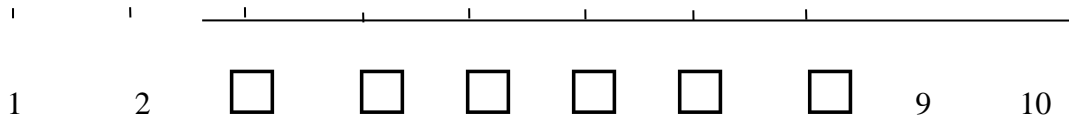


Работен лист по Математика
от ресурсен учител Иванка Канева
на ученичката Недялка Галева Севдалинова, 4 кл., ОУ"Шандор Петьофи"

1. Запиши пропуснатите числа:



2. Постави пропуснатите знаци: > = <

$10 \square 6$

$8 \square 5$

$5 \square 5$

$7 \square 6$

3. Помисли и попълни!

$4 = 3 + \square$

$3 = 2 + \square$

$6 - \square = 3$

$\square + 4 = 7$

$5 = 4 + \square$

$5 = 3 + \square$

$\square - 1 = 5$

$6 - \square = 4$

$5 = 2 + \square$

$5 = 1 + \square$

$7 - \square = 2$

$\square - 0 = 5$

$7 = 4 + \square$

$6 = \square + 3$

$6 + 1 = \square$

$5 = 7 - \square$

$\square = 3 + 3$

$\square = 2 + 2$

$7 = \square + 1$

$6 - \square = 0$

$6 - \square = 5$

$7 - \square = 4$

$4 + 3 = \square$

$1 + \square = 6$

$5 + \square = 7$

$\square + 3 = 5$

$\square + 4 = 7$

$\square = 2 + 5$

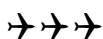
4. Съотнеси цифрите към броя на предметите:



3



8



6



1




2



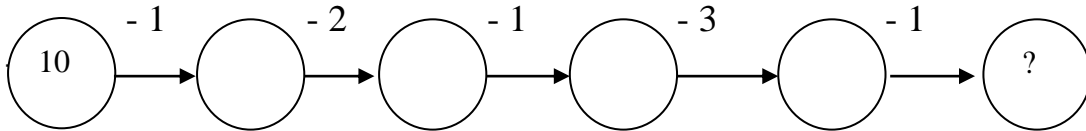
4

5.Свържи последователно от 1 до 10 и оцвети!



Работен лист по Математика
от ресурсен учител Иванка Канева
на ученичката Недялка Галева Севдалинова, 4 кл., ОУ"Шандор Петъофи"

1. Реши правилно:



2. Пресметни.



$$- 1 = ?$$



$$- 0 = ?$$



$$- 2 = ?$$



$$- 3 = ?$$



$$- 1 = ?$$



$$- 2 = ?$$



$$- 2 = ?$$



$$- 3 = ?$$

3. Пресметни:

$$6 - 1 = \underline{\quad}$$

$$10 - 2 = \underline{\quad}$$

$$10 - 6 = \underline{\quad}$$

$$7 - 2 = \underline{\quad}$$

$$8 - 1 = \underline{\quad}$$

$$7 - 0 = \underline{\quad}$$

$$5 - 1 = \underline{\quad}$$

$$4 - 2 = \underline{\quad}$$

$$5 - 5 = \underline{\quad}$$

4.Оцвети.

7 = жълто

5 = червено

6 = зелено

