


Работен лист по Математика  
от ресурсен учител Иванка Канева  
на ученика Кевин Ружев Славчев, 2 кл., ОУ"Шандор Петъфи"

Зад.1.Прочети в прав и обратен ред числата .


0 1 2 3 4 5 6 7 8 9

1. Запиши с цифри числата: едно,две,три,четири,пет


4. Всяко гърненце да си намери похлупака. Пресметни и свържи с верния отговор. Оцвети гърненцата






$$11 - \square = 3$$



$$6 + \square = 15$$






$$20 - \square = 4$$



20

9

7




8

6

16

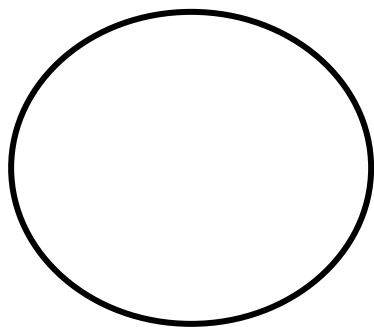
#### 4.Забавна математика !



Работен лист по Математика  
от ресурсен учител Иванка Канева  
на ученика Кевин Ружев Славчев, 2 кл., ОУ"Шандор Петъфи"

## 1.Геометрични фигури

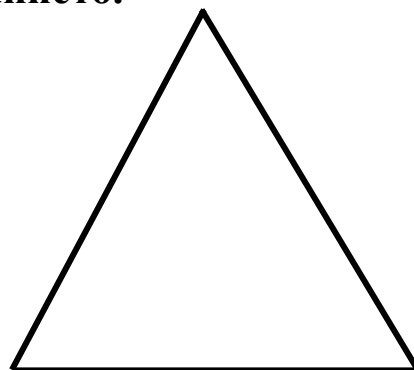
**\*Свържи геометричната фигура с наименованието.**



квадрат





триъгълник





кръг

**\*Очертай геометричните фигури по пунктира.**




**2.Оцвети крилата на пеперудата, като използваш :**

-  - син цвят;
-  - червен цвят;
-  - жълт цвят



3. Последи числата от 1 до 10 поредно и помогни на зайчето да стигне до моркова.

	3	4	2	8
	2	3	7	9
2	1	9	7	8
6	2	3	6	9
5	5	4	5	10
10	10	8	3	