



**РЕГИОНАЛЕН ЦЕНТЪР**  
**ЗА ПОДКРЕПА НА ПРОЦЕСА НА ПРИОБЩАВАЩОТО ОБРАЗОВАНИЕ-**  
**ХАСКОВО**

6300 Хасково, ул. "Иглика" №14 етаж 3, тел.: 038/668292, e-mail: rc\_haskovo2006@abv.bg

**РАБОТЕН ЛИСТ ПО МАТЕМАТИКА**

От ресурсен учител: Десислава Георгиева  
На: Танер Зюмбилов Методиев - 3 кл  
ОУ "Ш. Петъфи", гр.Хасково

Пресметни задачите:

$5+3=$

$7-5=$

$4+4=$

$4-3=$

$6+2=$

$9-2=$

$5+3=$

$6-3=$

$7+2=$

$5-4=$

$1+7=$

$7-2=$

$4+3=$

$6-4=$

$6+3=$

$8-6=$

$2+2=$

$3-2=$

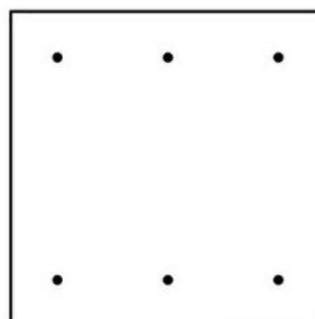
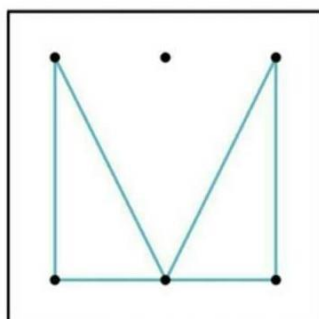
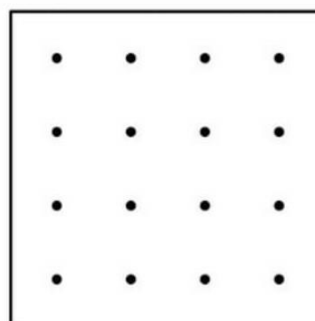
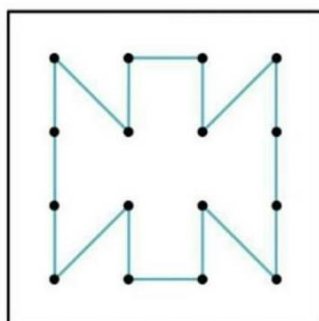
$3+5=$

$9-7=$

В празните квадратчета на доминото нарисуй липсващите точки, така че да са равни на числото.



Свържи точките по модела, който е дадени, така че да образуваш същия в празните квадрати.





**РЕГИОНАЛЕН ЦЕНТЪР**  
**ЗА ПОДКРЕПА НА ПРОЦЕСА НА ПРИОБЩАВАЩОТО ОБРАЗОВАНИЕ-**  
**ХАСКОВО**

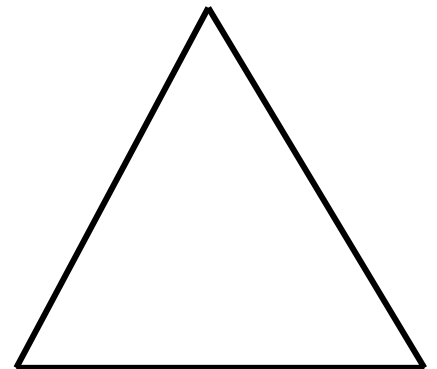


6300 Хасково, ул. "Иглика" №14 етаж 3, тел.: 038/668292, e-mail: rc\_haskovo2006@abv.bg

**РАБОТЕН ЛИСТ ПО МАТЕМАТИКА**

От ресурсен учител: Десислава Георгиева  
На: Танер Зюмбилов Методиев - 3 кл  
ОУ "Ш. Петьофи", гр.Хасково

**Геометрични фигури**

Свържи геометричната фигура с наименованието.

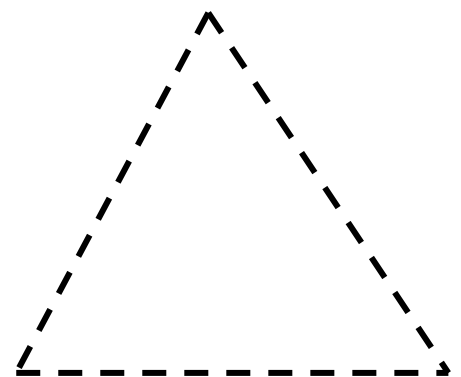




квадрат

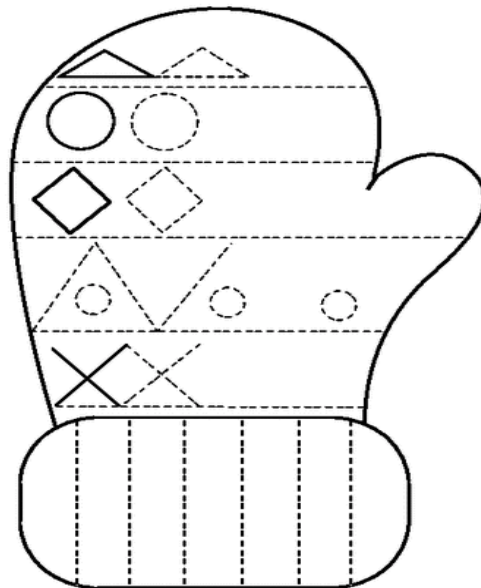
триъгълник

кръг

Очертай геометричните фигури по пунктира.

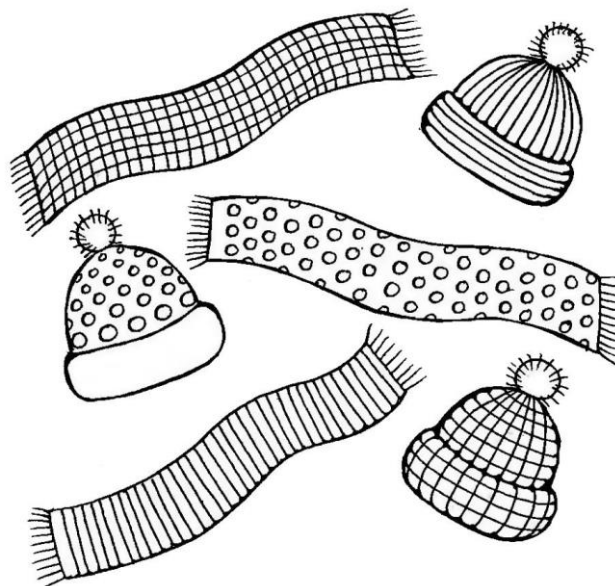


Уражнение за развитие на фина моторика.  
Очертай контура и довърши  
ръкавичката.



Упражнения за развитие на  
концентрацията на вниманието

Подбери подходящ шал към всяка шапка.



На кой принадлежи този силует?

