



РЕГИОНАЛЕН ЦЕНТЪР
ЗА ПОДКРЕПА НА ПРОЦЕСА НА ПРИОБЩАВАЩОТО ОБРАЗОВАНИЕ-
ХАСКОВО

6300 Хасково, ул."Иглика" №14 етаж 3, тел.: 038/668292, e-mail: rc_haskovo2006@abv.bg

РАБОТЕН ЛИСТ ПО МАТЕМАТИКА

От ресурсен учител: Десислава Георгиева

На: Мерт Махмуд Расим, 5 кл

ОУ "Ш. Петъфи", гр.Хасково

Пресметни задачите:

57	54	47	36
+	+	+	+
24	35	18	38
-----	-----	-----	-----



47	57	45	25
+	+	+	+
25	16	23	32
-----	-----	-----	-----

82	85	53	98
-	-	-	-
32	48	26	35
-----	-----	-----	-----


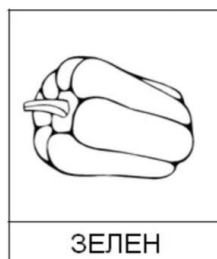
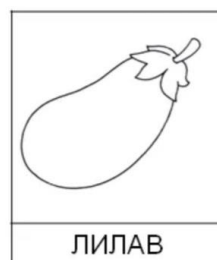
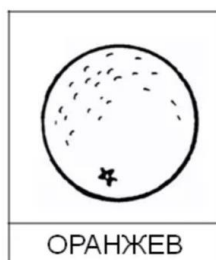



64	93	75	96
-	-	-	-

Разгледай добре
картинките. Огради чия е
сянката.

Чия е сянката?



Оцвети според посочения цвят!





РЕГИОНАЛЕН ЦЕНТЪР
ЗА ПОДКРЕПА НА ПРОЦЕСА НА ПРИОБЩАВАЩОТО ОБРАЗОВАНИЕ-
ХАСКОВО

6300 Хасково, ул."Иглика" №14 етаж 3, тел.: 038/668292, e-mail: rc_haskovo2006@abv.bg

РАБОТЕН ЛИСТ ПО МАТЕМАТИКА

От ресурсен учител: Десислава Георгиева
На: Мерт Махмуд Расим, 5 кл
ОУ "Ш. Петъфи", гр.Хасково

Препиши 2 пъти таблицата за умножение с числата 2 и 3:

2.1=2	2.1=2	2.1=2
2.2=4	_____	_____
2.3=6	_____	_____
2.4=8	_____	_____
2.5=10	_____	_____
2.6=12	_____	_____
2.7=14	_____	_____
2.8=16	_____	_____
2.9=18	_____	_____
2.10=20	_____	_____
3.1=3	3.1=3	3.1=3
3.2=6	_____	_____
3.3=9	_____	_____
3.4=12	_____	_____
3.5= 15	_____	_____
3.6=18	_____	_____
3.7=21	_____	_____


3.8=24

3.9=27


3.10=30

Свържи предмета с

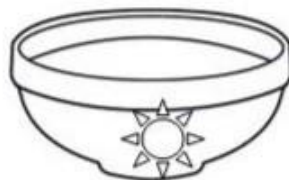
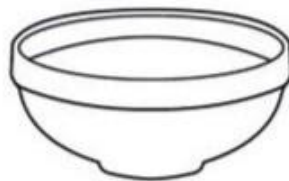
неговата сянка.



Оцвети патладжана
БЕЗ петното в синьо.



Оцвети купата БЕЗ
слънцето в синьо.



Оцвети пуловера БЕЗ
усмивка в синьо.

