



РЕГИОНАЛЕН ЦЕНТЪР
ЗА ПОДКРЕПА НА ПРОЦЕСА НА ПРИОБЩАВАЩОТО ОБРАЗОВАНИЕ-
ХАСКОВО


6300 Хасково, ул. "Иглика" №14 етаж 3, тел.: 038/668292, e-mail: rc_haskovo2006@abv.bg

РАБОТЕН ЛИСТ ПО МАТЕМАТИКА

От ресурсен учител: Десислава Георгиева
На: Кевин Ружев Славчев- 2 кл.
ОУ "Ш. Петьофи", гр.Хасково

Упражнение- геометрични фигури

Здравей, аз
съм
квадрат!



Здравей, аз
съм
триъгълник!

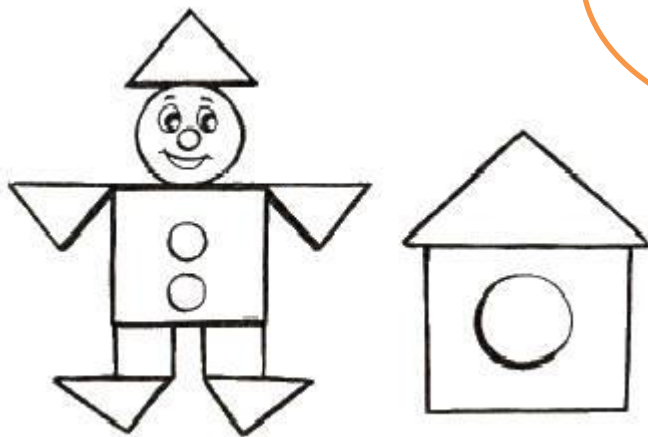


Здравей, аз
съм кръг!

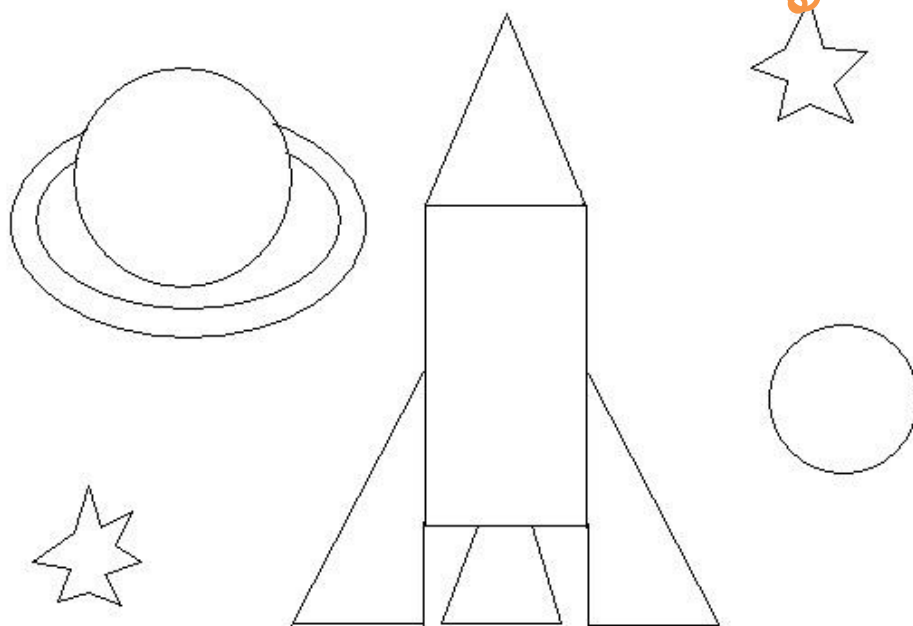


Сигурно вече ни познаваш, но нека да
проверим, дали можем да ни откриеш в
следните картинки. Опитай!

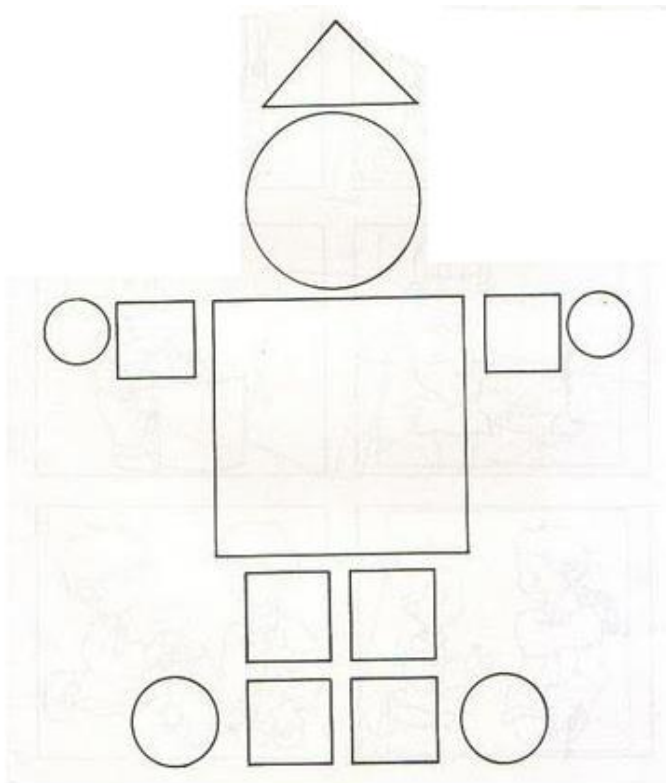
Разгледай
картинката и
оцвети само
триъгълниците.



Разгледай
картинката и
оцвети само



Разгледай
картинката и запиши
броя на квадратите.



Броя на квадратите е _____



РЕГИОНАЛЕН ЦЕНТЪР
ЗА ПОДКРЕПА НА ПРОЦЕСА НА ПРИОБЩАВАЩОТО ОБРАЗОВАНИЕ-
ХАСКОВО

6300 Хасково, ул."Иглика" №14 етаж 3, тел.: 038/668292, e-mail: rc_haskovo2006@abv.bg

РАБОТЕН ЛИСТ

От ресурсен учител: Десислава Георгиева
На: Кевин Ружев Славчев- 2 кл.
ОУ "Ш. Петьофи", гр.Хасково

Разгледай задачите и провери правилно ли са решени:

$$5+2=7$$

а) вярно



б) грешно



$$2+4=3$$

а) вярно



б) грешно



$$6+3=9$$

а) вярно



б) грешно



$$8+2=10$$

а) вярно



б) грешно



$$4+3=9$$

а) вярно



б) грешно



$$5+4=10$$

а) вярно



б) грешно



$$7+3=10$$

а) вярно



б) грешно



$$4+4=8$$

а) вярно



б) грешно



$$3+2=5$$

а) вярно



б) грешно

