





## Умножение и деление с 8

Щракнете върху сивото поле и въведете решението на задачите.

	<p>1. Пресметнете:</p> <table><tr><td><math>26-3.8=</math></td><td><math>73-9.8=</math></td></tr><tr><td><math>8.8-8=</math></td><td><math>24:(16-8).7=</math></td></tr><tr><td><math>81-8.7=</math></td><td><math>5+56:8=</math></td></tr><tr><td><math>8.2+8.3=</math></td><td><math>7.8-56=</math></td></tr><tr><td><math>8.8+36=</math></td><td></td></tr></table>	$26-3.8=$	$73-9.8=$	$8.8-8=$	$24:(16-8).7=$	$81-8.7=$	$5+56:8=$	$8.2+8.3=$	$7.8-56=$	$8.8+36=$	
$26-3.8=$	$73-9.8=$										
$8.8-8=$	$24:(16-8).7=$										
$81-8.7=$	$5+56:8=$										
$8.2+8.3=$	$7.8-56=$										
$8.8+36=$											

	<p>2. А) Към произведението на числата 8 и 4 прибавете частното на числата 56 и 8.</p> <p>Б) От най-малкото трицифрено число извадете произведението на числата 9 и 8.</p>
--	--

	<p>3. А) Намислих число. Умножих го с 8 и получих 72. кое число съм намислила?</p> <p>Б) Намислих число. Към него прибавих произведението на числата 4 и 8 и получих число, което е равно на произведението на числата 5 и 8. кое число съм намислила?</p>
---	--



4. В овощна градина засадили 56 черешови и 24 крушови дървета на 8 реда по равно. По колко дървета има на всеки ред?



5. Годините на мама образуват число от 3 десетици и 6 единици. Мама е 4 пъти по-голяма от мене. Познайте на колко години съм?