












II^B клас

Умножение с числото 7

1. Пресметнете като използвате разместителното свойство на умножението.

$3 \cdot 7 =$ $2 \cdot 7 =$ $4 \cdot 7 =$ $5 \cdot 7 =$ $6 \cdot 7 =$

Умножение с числото 7 

	$1 \cdot 7 = 7$
	$2 \cdot 7 = 14$
	$3 \cdot 7 = 21$
	$4 \cdot 7 = 28$
	$5 \cdot 7 = 35$
	$6 \cdot 7 = 42$
	$7 \cdot 7 = 49$
	$8 \cdot 7 = 56$
	$9 \cdot 7 = 63$
	$10 \cdot 7 = 70$

Това е таблицата за умножение със 7. Всяко произведение е със 7 по-голямо от предходното.

2. Пресметнете:

$7 \cdot 7 =$ $9 \cdot 7 =$ $8 \cdot 7 =$ $10 \cdot 7 =$

3. Пресметнете.

$5 \cdot 7 - 9 =$ $(32 - 28) \cdot 7 =$ $58 - 8 \cdot 7 =$

4. Намерете обиколката на равностраничен триъгълник със страна 7 см.



Да припомним!
Всички страни на равностраничния триъгълник са с равни дължини

Решение:

5. Лина ще бъде 3 седмици на море. Колко дни ще бъде на море Лина?
/Припомни си колко дни има 1 седмица/

Решение: