

Работен лист по БЕЛ
от ресурсен учител Иванка Канева
на ученика Кевин Ружев Славчев, 2кл., ОУ"Шандор Петьофи"

1. Подчертайте буквите на гласните букви в текста.

То ни е беличко, то ние е сладко,
то се усмихва на мен и на батко,
само защо нито дума не знае,
та да се чудя и да се мая,
като заплаче, като записка,
точно какво ли, горкичкото, иска.

2. Подреди думите в изречение и го напиши.

море на Райна е

3. Колко съгласни звука има думата ЗДРАВЕ?

- а) две
- б) три
- в) четири

4. Колко срички има думата КАЛИНКА?


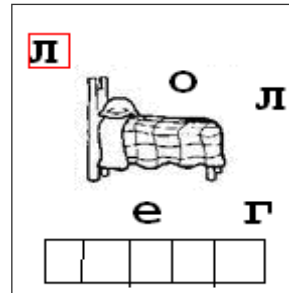
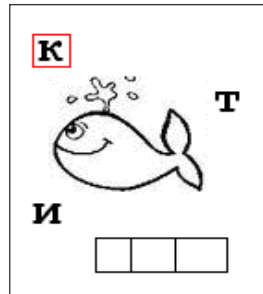
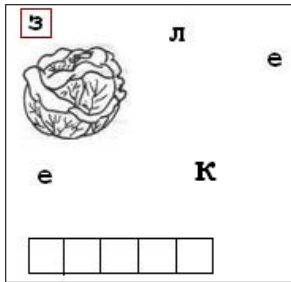
- а) три
- б) четири
- в) пет

5. Попълнете пропуснатите букви

А, Б, □, Г, □, □, Ж, □, И, Й, □, □, □, Н, □, □, □, □, Т, □, □, Ц

Работен лист по БЕЛ
от ресурсен учител Иванка Канева
на ученика Кевин Ружев Славчев, 2кл., ОУ"Шандор Петъофи"

1. Подреди буквите в думи и ги запишете в празните квадратчета.
Оцветете гласни и съгласни звукове:



2. Открийте звуковете /Кк, Тт, Вв, Пп/ назови и огради техните букви.

Жж Зз Пп Ии Кк
Аа Фф Ее Гг Оо Рр
Вв Ъъ Цц Уу Тт Юю

3. Препиши текста ръкописно:

Есен е. В гората е тихо. Листата леко падат.
Вальо и Йонка вървят по пътеката. Над покривите на
къщите летят жерави. Къде ли ще зимуват?

Работен лист по Математика
от ресурсен учител Иванка Канева
на ученика Кевин Ружев Славчев. 2 кл., ОУ"Шандор Петьофи"

Зад.1.Прочети в прав и обратен ред числата .

0 1 2 3 4 5 6 7 8 9

Зад.2. Запиши числата от 10 до 15.

--	--	--	--	--	--	--	--	--	--	--	--	--

Зад. 3. Пресметни.

$10 + 5 = \square$

$10 + 4 = \square$

$15 - 13 = \square$

$14 - 13 = \square$

$14 - 4 = \square$

$10 + 0 = \square$

$14 - 12 = \square$

$12 = 14 - \square$

$12 - 10 = \square$

$15 - 3 = \square$

$10 - 4 = \square$

$1 = \square - 14$

$11 + 3 = \square$

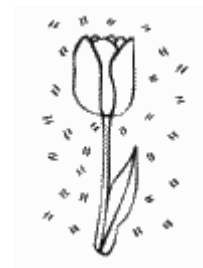
$15 - 5 = \square$

$3 + 12 = \square$

$12 = \square - 3$

Зад.4. Едното събираемото е 10 , а другото събираемо е 4.
Намерете сбора.

--	--	--	--	--	--	--	--	--	--	--	--



Зад.5. Марина откъснала 15 лалета, а Ива – 10. С колко лалетата на Марина са повече от тези на Ива?

Работен лист по Математика
от ресурсен учител Иванка Канева
на ученика Кевин Ружев Славчев. 2 кл., ОУ"Шандор Петьофи"

Зад.1. Пресметни:

а) $5 + 3 = \dots$
 $5 + 4 = \dots$

б) $3 + 6 = \dots$
 $7 + 1 = \dots$

в) $2 + 8 = \dots$
 $4 + 3 = \dots$

Зад. 2. Запиши неизвестното събираемо:

а) $7 + \square = 10$
 $\square + 5 = 8$

б) $\square + 9 = 10$
 $5 + \square = 7$

в) $\square + 3 = 3 + 5$
 $3 + 4 = \square + 4$

Зад.3. Сравни: (<, =, >)

а) $1 + 2$ \square $1 + 7$

б) $6 - 4$ \square $1 + 6$

в) $6 + 3$ \square $8 + 2$

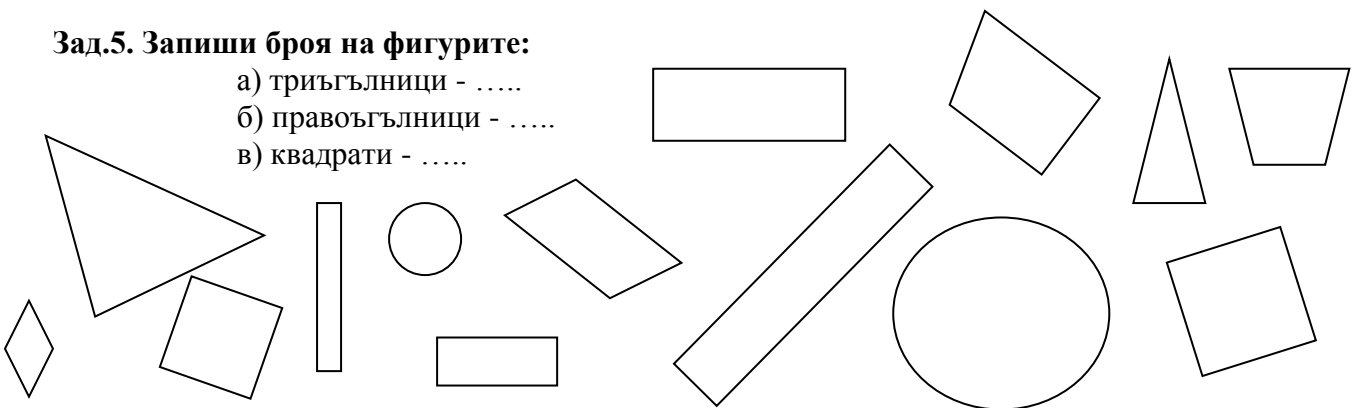
**Зад.4. Иво имал 8 рибки. Купил си още няколко и рибките станали 12.
Колко рибки си купил Иво?**

--	--	--	--	--	--	--	--	--	--	--	--	--	--	--	--	--	--	--	--



Зад.5. Запиши броя на фигурите:

- а) триъгълници -
б) правоъгълници -
в) квадрати -



Работен лист по БЕЛ
от ресурсен учител Иванка Канева
на ученика Танер Зюмбилев Методиев, 3кл., ОУ"Шандор Петьофи"

1 . Попълни пропуснатите букви

А, Б, □, Г, □, □, Ж, □, И, Й, □, □, □, Н, □, □, □, □, Т, □, □, Ц

2. Препиши:

а у е о и ъ а у


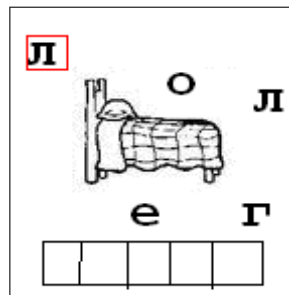
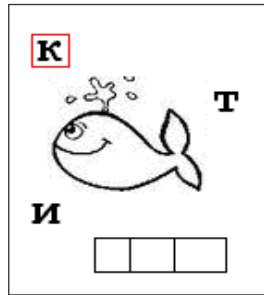
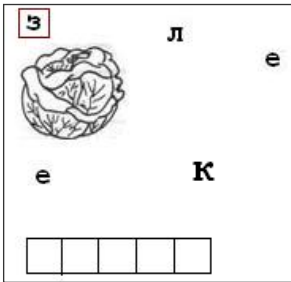
У И Е А Ъ И Е У

3. Открой звуковете /Кк, Тт, Вв,Рр/ назови и огради техните букви.

	Жж		Зз		Пп		Ии		Кк		
	Аа		Фф		Ее		Гг		Оо		Рр
Вв		Ъъ		Цц		Уу		Тт		Юю	

Работен лист по БЕЛ
от ресурсен учител Иванка Канева
на ученика Танер Зюмбилов Методиев, 3кл., ОУ"Шандор Петьофи"

1. Подреди буквите в думи и ги запишете в празните квадратчета.
Оцветете гласни и съгласни звукове:



2. Подчертайте буквите на гласните букви в текста.

То ни е беличко, то ние е сладко,
то се усмихва на мен и на батко,
само защо нито дума не знае,
та да се чудя и да се мая,
като заплаче, като записка,
точно какво ли, горкичкото, иска.

2. Кое изречение съответства на схемата ?

_____ .

- а) Мама меси питка.
- б) Кака и батко гледат филм.
- в) Мими има ли книжка?

Работен лист по Математика
от ресурсен учител Иванка Канева
на ученика Танер Зюмбилев Методиев, 3 кл., ОУ"Шандор Петъфи"

Зад.1.Прочети в прав и обратен ред числата .

0 1 2 3 4 5 6 7 8 9

Зад.2. Запиши числата от 1 до 10.

--	--	--	--	--	--	--	--	--	--	--	--	--

Зад.3.Запиши липсващите числа в числовата редица :

1.....5.....10

10.....7.....5.....1

Зад. 4. Пресметни.

$0 + 5 = \square$

$0 + 4 = \square$

$5 - 3 = \square$

$4 - 3 = \square$

$10 - 4 = \square$

$10 + 0 = \square$

$10 - 2 = \square$

$2 = 4 - \square$

$10 - 10 = \square$

$10 - 3 = \square$

$10 - 4 = \square$

$1 = \square - 4$

$5 + 3 = \square$

$10 - 5 = \square$

$3 + 6 = \square$

$2 = \square - 3$

Работен лист по Математика
от ресурсен учител Иванка Канева
на ученика Танер Зюмбилов Метадиев, 3 кл., ОУ"Шандор Петъфи"

Зад.1. Пресметни:

а) $5 + 3 = \dots$
 $5 + 4 = \dots$

б) $3 + 6 = \dots$
 $7 + 1 = \dots$

в) $2 + 8 = \dots$
 $4 + 3 = \dots$

Зад. 2. Запиши неизвестното събираемо:

а) $7 + \square = 10$

б) $\square + 9 = 10$

в) $\square + 3 = 3 + 5$

$\square + 5 = 8$

$5 + \square = 7$

$3 + 4 = \square + 4$

Зад.3. Сравни: (<, =, >)

а) $1 + 2 \square 1 + 7$

б) $6 - 4 \square 1 + 6$

в) $6 + 3 \square 8 + 2$



**Зад.4. Иво имал 8 рибки. Купил си още няколко и рибките станали 12.
Колко рибки си купил Иво?**

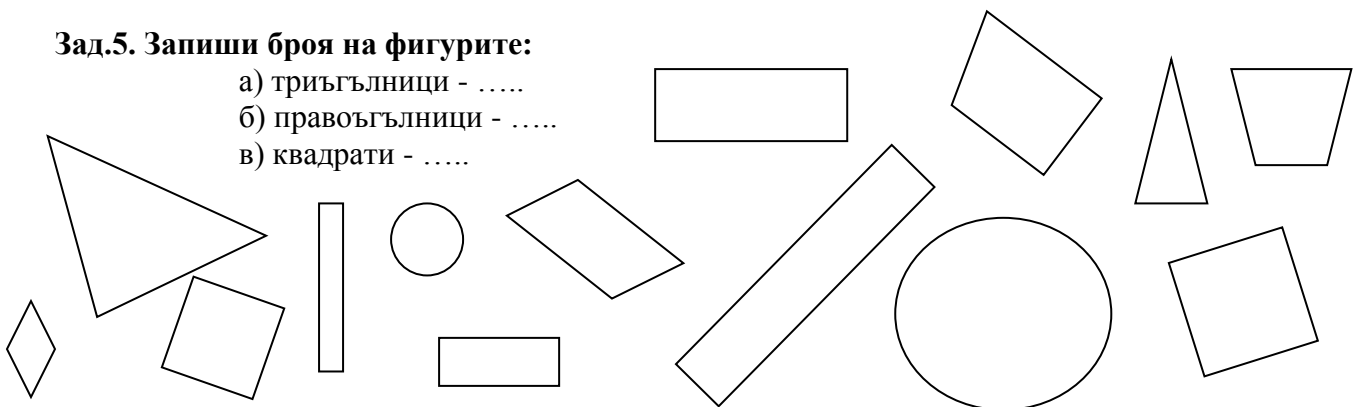
--	--	--	--	--	--	--	--	--	--	--	--	--	--	--	--

Зад.5. Запиши броя на фигурите:

а) триъгълници -

б) правоъгълници -

в) квадрати -



Работен лист по БЕЛ
от ресурсен учител Иванка Канева
на ученичката Недялка Галева Севдалинова, 4кл., ОУ"Шандор Петъофи"

1. Подчертайте буквите на гласните букви в текста.

То ни е беличко, то ние е сладко,
то се усмихва на мен и на батко,
само защо нито дума не знае,
та да се чудя и да се мая,
като заплаче, като записка,
точно какво ли, горкичкото, иска.

2. Подреди думите в изречение и го напиши.

море на Райна е

3. Колко съгласни звука има думата ЗДРАВЕ?

- а) две
- б) три
- в) четири

4. Колко срички има думата КАЛИНКА?


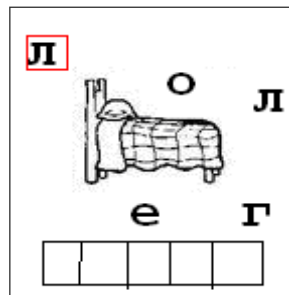
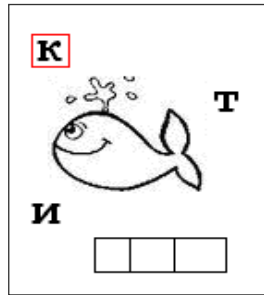
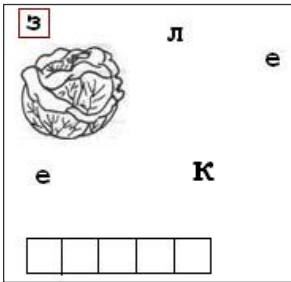
- а) три
- б) четири
- в) пет

5. Попълнете пропуснатите букви

А, Б, □, Г, □, □, Ж, □, И, Й, □, □, □, Н, □, □, □, □, Т, □, □, Ц

Работен лист по БЕЛ
от ресурсен учител Иванка Канева
на ученичката Недялка Галева Севдалинова, 4кл., ОУ"Шандор Петъофи"

1. Подреди буквите в думи и ги запишете в празните квадратчета.
Оцветете гласни и съгласни звукове:



2. Открийте звуковете /Кк, Тт, Вв, Пп/ назови и огради техните букви.

Жж Зз Пп Ии Кк
Аа Фф Ее Гг Оо Рр
Вв ъъ Цц Уу Тт Юю

3. Препиши текста ръкописно:

Есен е. В гората е тихо. Листата леко падат. Вальо и Йонка вървят по пътеката. Над покривите на къщите летят жерави. Къде ли ще зимуват?

Работен лист по Математика
от ресурсен учител Иванка Канева
на ученичката Недялка Галева Севдалинова, 4 кл., ОУ"Шандор Петъофи"

1. Пресметни.

$4 + 5 = \square$

$9 - 9 = \square$

$3 + 7 = \square$

$7 - 0 = \square$

$9 + 0 = \square$

$10 - 6 = \square$

$6 + 3 = \square$

$10 - 8 = \square$

$4 + 4 = \square$

$10 - 3 = \square$

2. Постави знаците $+$, $-$

$4 \square 5 = 9$

$8 \square 1 = 9$

$8 \square 2 = 6$

$3 \square 7 = 10$

$9 \square 1 = 10$

$6 \square 5 = 1$

$5 \square 5 = 0$

$0 \square 8 = 8$

$10 \square 0 = 10$

$5 \square 3 = 2$

Работен лист по Математика
от ресурсен учител Иванка Канева
на ученичката Недялка Галева Севдалинова, 4 кл., ОУ"Шандор Петьофи"

1. Попълни пропуснатото число.

$6 + \square = 10$

$10 - \square = 10$

$8 = 4 + \square$

$10 = \square + \square$

$9 = 7 + \square$

$10 = \square + \square$

$10 - \square = 5$

$10 = \square + \square$

$3 + \square = 8$

$10 = \square + \square$

2. Постави знаците $<$, $>$, $=$

$2 + 3 \square 10 - 4$

$6 - 2 \square 3 + 1$

$9 + 0 \square 9 - 0$

$5 + 5 \square 5 + 2$

$3 + 7 \square 1$

$8 - 8 \square 0$

3. Мими има 10 лева. Дала 4 лева. Останали \square лева? Пресметни.

--	--	--	--	--	--	--	--

Работен лист по БЕЛ
от ресурсен учител Иванка Канева
на ученичката Теменужка Янкова Щерева, 4кл., ОУ"Шандор Петьофи"

1. Подчертайте буквите на гласните букви в текста.

То ни е беличко, то ние е сладко,
то се усмихва на мен и на батко,
само защо нито дума не знае,
та да се чудя и да се мая,
като заплаче, като записка,
точно какво ли, горкичкото, иска.

2. Подреди думите в изречение и го напиши.

море на Райна е

3. Колко съгласни звука има думата ЗДРАВЕ?

- а) две
- б) три
- в) четири

4. Колко срички има думата КАЛИНКА?

- а) три
- б) четири
- в) пет


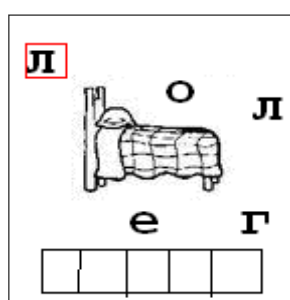

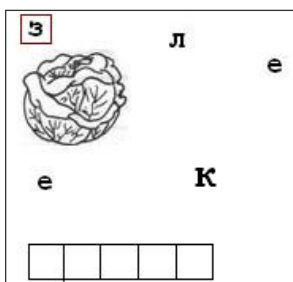
5. Попълнете пропуснатите букви

А, Б, □, Г, □, □, Ж, □, И, Й, □, □, □, Н, □, □, □, □, Т, □, □, Ц

Работен лист по БЕЛ
от ресурсен учител Иванка Канева
на ученичката Теменужка Янкова Щерева, 4кл., ОУ"Шандор Петьофи"

1. Подреди буквите в думи и ги запишете в празните квадратчета.

Оцветете гласни и съгласни звукове:



2. Открийте звуковете /Кк, Тт, Вв, Пп/ назови и огради техните букви.

Жж Зз Пп Ии Кк
 Аа Фф Ее Гг Оо Рр
Вв ъъ Цц Уу Тт Юю

3. Препиши текста ръкописно:

Есен е. В гората е тихо. Листата леко падат.
Вальо и Йонка вървят по пътеката. Над покривите на
къщите летят жерави. Къде ли ще зимуват?

Работен лист по Математика
от ресурсен учител Иванка Канева
на ученичката Теменужка Янкова Щерева, 4 кл., ОУ"Шандор Петьофи"

1. Попълни пропуснатото число.

$6 + \square = 10$

$10 - \square = 10$

$8 = 4 + \square$

$10 = \square + \square$

$9 = 7 + \square$

$10 = \square + \square$

$10 - \square = 5$

$10 = \square + \square$

$3 + \square = 8$

$10 = \square + \square$

2. Постави знаците $<$, $>$, $=$

$2 + 3 \square 10 - 4$

$6 - 2 \square 3 + 1$

$9 + 0 \square 9 - 0$

$5 + 5 \square 5 + 2$

$3 + 7 \square 1$

$8 - 8 \square 0$

3. Мими има 10 лева. Дала 4 лева. Останали \square лева? Пресметни.

--	--	--	--	--	--	--	--

Работен лист по Математика
от ресурсен учител Иванка Канева
на ученичката Теменужка Янкова Щерева, 4 кл., ОУ"Шандор Петьофи"

1. Пресметни.

$4 + 5 = \square$

$9 - 9 = \square$

$3 + 7 = \square$

$7 - 0 = \square$

$9 + 0 = \square$

$10 - 6 = \square$

$6 + 3 = \square$

$10 - 8 = \square$

$4 + 4 = \square$

$10 - 3 = \square$

2. Постави знаците **+**, **-**

$4 \square 5 = 9$

$8 \square 1 = 9$

$8 \square 2 = 6$

$3 \square 7 = 10$

$9 \square 1 = 10$

$6 \square 5 = 1$

$5 \square 5 = 0$

$0 \square 8 = 8$

$10 \square 0 = 10$

$5 \square 3 = 2$

Работен лист по БЕЛ
от ресурсен учител Иванка Канева
на ученика Златина Недялкова Христова, 4 кл., ОУ"Шандор Петъофи"

1. Подчертайте буквите на гласните букви в текста.

То ни е беличко, то ние е сладко,
то се усмихва на мен и на батко,
само защо нито дума не знае,
та да се чудя и да се мая,
като заплаче, като записка,
точно какво ли, горкичкото, иска.

3. Колко съгласни звука има думата ЗДРАВЕ?

- а) две
- б) три
- в) четири

4. Колко срички има думата КАЛИНКА?

- а) три
- б) четири
- в) пет


5. Подреди думите в изречение.


нова, Детелина, книга, купи

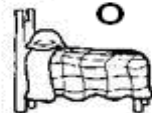
Михаела, ли, пухкавите, нахрани, пиленца


Работен лист по БЕЛ
от ресурсен учител Иванка Канева
на ученика Златина Недялкова Христова, 4 кл., ОУ"Шандор Петъофи"

1. Подреди буквите в думи и ги запишете в празните квадратчета.
Оцветете гласни и съгласни звукове:

З л е

е К
□ □ □ □ □

К Т

И
□ □ □

Л О Л

е Г
□ □ □ □ □

Т а н

И Г
□ □ □ □ □

2. Открии грешките. Поправи и препиши вярно и красиво.
зарко е художник. Нарисува ваза с хризънтеми. Къртината стана
хубава.

3. Препиши текста ръкописно:

Есен е. В гората е тихо. Листата леко падат.
Вальо и Йонка вървят по пътеката. Над покривите на
къщите летят жерави. Къде ли ще зимуват?

Работен лист по Математика
от ресурсен учител Иванка Канева
на ученичката Златина Недялкова Христова, 4 кл., ОУ"Шандор Петьофи"

Зад.1. Запиши числата от 10 до 20.

--	--	--	--	--	--	--	--	--	--	--	--	--

Зад. 2. Пресметни

$10 + 6 = \square$

$15 + 5 = \square$

$15 - 13 = \square$

$17 - 13 = \square$

$14 - 4 = \square$

$20 + 0 = \square$

$14 - 12 = \square$

$12 = 19 - \square$

$18 - 10 = \square$

$18 - 6 = \square$

$17 - 4 = \square$

$2 = \square - 14$

$16 + 3 = \square$

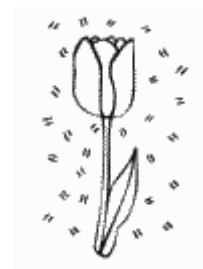
$15 - 5 = \square$

$3 + 17 = \square$

$12 = \square - 3$

Зад.3. Едното събираемото е 10 , а другото събираемо е 4.
Намерете сбора.

--	--	--	--	--	--	--	--	--	--	--	--



Зад.4. Марина откъснала 17 лалета, а Ива – 15. С колко лалетата на Марина са повече от тези на Ива?

--	--	--	--	--	--	--	--	--	--	--	--	--

Зад.5. Начертай отсечка с дължина 4 см.

Работен лист по Математика
от ресурсен учител Иванка Канева
на ученичката Златина Недялкова Христова, 4 кл., ОУ"Шандор Петъофи"

Зад.1. Пресметни:

а) $9 + 3 = \dots$
 $5 + 7 = \dots$

б) $8 + 6 = \dots$
 $7 + 9 = \dots$

в) $8 + 8 = \dots$
 $4 + 7 = \dots$

Зад. 2. Запиши неизвестното събираемо:

а) $7 + \square = 15$

б) $\square + 9 = 15$

в) $\square + 3 = 3 + 9$

$\square + 5 = 13$

$5 + \square = 14$

$8 + 4 = \square + 4$

Зад.3. Сравни: (<, =, >)

а) $16 + 2 \square 9 + 7$

б) $20 - 4 \square 7 + 6$

в) $16 + 3 \square 8 + 9$

**Зад.4. Иво имал 8 рибки. Купил си още няколко и рибките станали 12.
Колко рибки си купил Иво?**



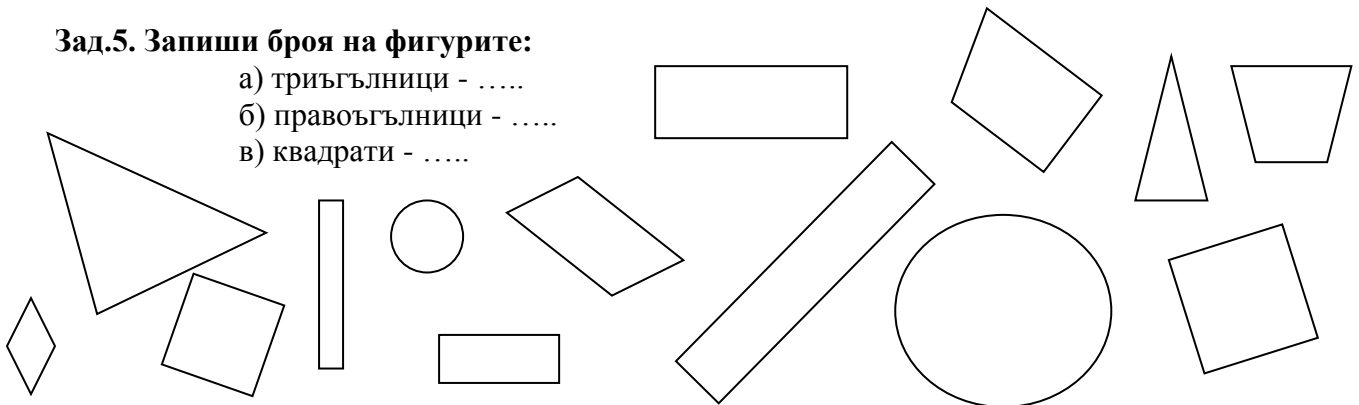
--	--	--	--	--	--	--	--	--	--	--	--	--	--	--

Зад.5. Запиши броя на фигурите:

а) триъгълници -

б) правоъгълници -

в) квадрати -



Работен лист по БЕЛ
от ресурсен учител Иванка Канева
на ученичката Дуйгу Миленова Христова, 4 кл., ОУ"Шандор Петьофи"

1. Запиши знак в края на изречението / ? . ! /
Скоро ли ще дойде ваканция
Днес е прекрасен ден
Ах, какво красиво цвете

2. Отдели изреченията, като поставиш главни букви и знак в края:
**днес аз имам рожден ден дойдоха ми гости получих много
подаръци**

3. Подреди думите в изречение и го запиши:
е, богатство, най- голямото, здравето

4. Степенувай прилагателните имена:

висок - _____
красив - _____
мъдър - _____

Работен лист по БЕЛ
от ресурсен учител Иванка Канева
на ученика Дуйгу Миленова Христова, 4 кл., ОУ"Шандор Петьофи"

1. Добави подходящи прилагателни имена към думите!

МОЛИВ (какъв?)
ябълка (каква?)
куче (какво?)
цветя (какви?)

2. Кое изречение е въпросително?

а)Отивам на училище.

б)Къде отиваш,Иване?

в)Мила родино,ти си земен рай!

3. Постави препинателни знаци на изреченията

Къде отиваш ...

Аз обичам да чета книги ...

Иване, затвори прозореца ...

Ах, колко е красива розата ...

4. Поправи сгрешените думи

мъш, зелен, дите, четъ, дарво, пееме, хубаф

здрав, радос, къшта, гълъп, пролет, убичам

5. Подчертай съществителните имена

колело, добър, слънце, робот, дъжд, пише, дете, скача, обич,

картина, малък

6. Поправи грешките и препиши вярно:

По това време на годината обикновено вали.

Тази година моника и нейната сестра не успяха да се пързаят с Шейна.

Госпожа миланова и семейството и бяха в чужбина за Празниците.

Работен лист по Математика
от ресурсен учител Иванка Канева
на ученичката Дуйгу Миленова Христова, 4 кл., ОУ"Шандор Петьофи"

Прочети:

$1 \cdot 5 = 5$

$2 \cdot 5 = 10$

$3 \cdot 5 = 15$

$4 \cdot 5 = 20$

$5 \cdot 5 = 25$

$6 \cdot 5 = 30$

$7 \cdot 5 = 35$

$8 \cdot 5 = 40$

$9 \cdot 5 = 45$

$10 \cdot 5 = 50$

Напиши и запомни:

$1 \cdot 5 = 5$

$2 \cdot 5 = 10$

$3 \cdot 5 = 15$

$4 \cdot 5 = 20$

$5 \cdot 5 = 25$

$6 \cdot 5 = 30$

$7 \cdot 5 = 35$

$8 \cdot 5 = 40$

$9 \cdot 5 = 45$

$10 \cdot 5 = 50$

Пресметни:

$5 \cdot 6 =$

$7 \cdot 5 =$

$3 \cdot 5 =$

$8 \cdot 5 =$

$2 \cdot 5 =$

$9 \cdot 5 =$

$4 \cdot 5 + 6 \cdot 5 =$

$3 \cdot 5 + 10 \cdot 5 =$

$7 \cdot 6 + 9 \cdot 5 =$

$8 \cdot 6 + 4 \cdot 5 =$

$9 \cdot 5 + 5 \cdot 0 =$

Работен лист по Математика
от ресурсен учител Иванка Канева
на ученичката Дуйгу Миленова Христова, 4 кл., ОУ"Шандор Петьофи"

Прочети:

$$\begin{aligned}5 : 5 &= 1 \\10 : 5 &= 2 \\15 : 5 &= 3 \\20 : 5 &= 4 \\25 : 5 &= 5 \\30 : 5 &= 6 \\35 : 5 &= 7 \\40 : 5 &= 8 \\45 : 5 &= 9 \\50 : 5 &= 10\end{aligned}$$

Напиши и запомни:

$$\begin{aligned}5 : 5 &= 1 \\10 : 5 &= 2 \\15 : 5 &= 3 \\20 : 5 &= 4 \\25 : 5 &= 5 \\30 : 5 &= 6 \\35 : 5 &= 7 \\40 : 5 &= 8 \\45 : 5 &= 9 \\50 : 5 &= 10\end{aligned}$$

Пресметни:

$$\begin{array}{lll}30 : 5 = & 40 : 5 = & 15 : 5 = \\45 : 5 = & 10 : 5 = & 35 : 5 =\end{array}$$

$$\begin{aligned}25 : 5 + 6 \cdot 5 &= \\3 \cdot 5 + 50 : 5 &= \\7 \cdot 4 + 45 : 5 &= \\8 \cdot 5 - 20 : 5 &= \\35 : 6 - 6 \cdot 0 &= \end{aligned}$$

Работен лист по БЕЛ
от ресурсен учител Иванка Канева
на ученика Йордан Емилов Филипов, 5 кл., ОУ"Шандор Петьофи"

1. Добави подходящи прилагателни имена към думите!

МОЛИВ (какъв?)

ябълка (каква?)

куче (какво?)

ЦВЕТА (какви?)

2. Кое изречение е въпросително?

а) Отивам на училище.

б) Къде отиваш, Иване?

в) Мила родино, ти си земен рай!

3. Постави препинателни знаци на изреченията

Къде отиваш ...
Аз обичам да чета книги ...
Иване, затвори прозореца ...
Ах, колко е красива розата ...

4. Поправи сгрешените думи

мъш, зелен, дите, четъ, дарво, пееме, хубаф
здрав, радос, къшта, гълъп, пролет, убичам

5. Подчертай съществителните имена

колело, добър, слънце, робот, дъжд, пише, дете, скача, обич,
картина, малък

6. Поправи грешките и препиши вярно:

По това време на годината обикновено вали.

Тази година Моника и нейната сестра не успяха да се пързаят с Шейна.

Госпожа Миланова и семейството ѝ бяха в чужбина за Празниците.

Работен лист по БЕЛ
от ресурсен учител Иванка Канева
на ученика Йордан Емилов Филипов, 5 кл., ОУ"Шандор Петъофи"

1. Запиши знак в края на изречението / ? . ! /
Скоро ли ще дойде ваканция
Днес е прекрасен ден
Ах, какво красиво цвете

2. Отдели изреченията, като поставиш главни букви и знак в края:
днес аз имам рожден ден
дойдоха ми гости
получих много подаръци

3. Подреди думите в изречение и го запиши:
е, богатство, най- голямото, здравето

4. Степенувай прилагателните имена:

висок - _____
красив - _____
мъдър - _____

Работен лист по Математика
от ресурсен учител Иванка Канева
на ученика Йордан Емилов Филипов, 5 кл., ОУ"Шандор Петъфи"

1. Попълни таблиците:

множител	3	6	3	9	8	8	2	2	7
множител	2	2	4	3	3	2	4	2	4
произведение									

делимо	30	6	20				16	20	18
делител				3	3	2	4	2	2
частно	10	2	5	5	6	12			

2. Пресметни:

$3 \cdot 6 =$ $7 \cdot 6 =$ $10 \cdot 6 =$

$8 \cdot 6 =$ $5 \cdot 6 =$ $9 \cdot 6 =$

$4 \cdot 6 + 6 \cdot 6 =$

$3 \cdot 6 + 10 \cdot 6 =$

$7 \cdot 6 + 9 \cdot 5 =$

$8 \cdot 6 + 4 \cdot 5 =$

$9 \cdot 6 + 6 \cdot 0 =$

$125 \cdot 6 =$

$65 \cdot 6 =$

$432 \cdot 6 =$

$(12 + 69) \cdot 6 =$

$(34 + 65) \cdot 6 =$

Работен лист по Математика
от ресурсен учител Иванка Канева
на ученика Йордан Емилов Филипов, 5 кл., ОУ"Шандор Петъофи"

1. Попълни таблицата:

събираемо	30	69	136	786	821	322	223	221	712
събираемо	22	23	467	108	139	299	434	232	423
сбор									

2. а) Напиши **5** числа, първото от които е **2**, а всяко следващо е с **6 пъти по-голямо** от предходното.

--	--	--	--	--	--	--	--	--	--	--	--

б) Напиши **5** числа, първото от които е **36**, а всяко следващо е с **6 пъти по-малко** от предходното.

--	--	--	--	--	--	--	--	--	--	--	--

3. Топка струва 6 лева. Колко лева струват?

- а) 4 такива топки;
- б) 7 такива топки;
- в) 5 такива топки;
- г) 9 такива топки;

4. Попълни пропуснатите числа в редицата:

а) 3, 6, 9, _ , 15, _ , 21, _ .

б) 15, 20, _ , _ , _ , 40 , _ , _ .

в) 28 , 24 , _ , _ , _ , 8 , _ .

Работен лист по БЕЛ
от ресурсен учител Иванка Канева
на ученика Радослав Василев Иванов, 4 кл., ОУ"Шандор Петьофи"

1. Добави подходящи прилагателни имена към думите!

МОЛИВ (какъв?)
ябълка (каква?)
куче (какво?)
ЦВЕТА (какви?)

2. Кое изречение е въпросително?

- а) Отивам на училище.
- б) Къде отиваш, Иване?
- в) Мила родино, ти си земен рай!

3. Постави препинателни знаци на изреченията

Къде отиваш ...
Аз обичам да чета книги ...
Иване, затвори прозореца ...
Ах, колко е красива розата ...

4. Поправи сгрешените думи

мъш, зелен, дите, четъ, дарво, пееме, хубаф
здрав, радос, къшта, гълъп, пролет, убичам

5. Подчертай съществителните имена

колело, добър, слънце, робот, дъжд, пише, дете, скача, обич,
картина, малък

6. Поправи грешките и препиши вярно:

По това време на годината обикновено вали.

Тази година Моника и нейната сестра не успяха да се пързалят с Шейна.

Госпожа Миланова и семейството ѝ бяха в чужбина за празниците.

Работен лист по БЕЛ
от ресурсен учител Иванка Канева
на ученика Радослав Василев Иванов, 4 кл., ОУ"Шандор Петьофи"

1. Запиши знак в края на изречението / ? . ! /
Скоро ли ще дойде ваканция
Днес е прекрасен ден
Ах, какво красиво цвете

2. Отдели изреченията, като поставиш главни букви и знак в края:
днес аз имам рожден ден
дойдоха ми гости
получих много подаръци

3. Подреди думите в изречение и го запиши:
е, богатство, най- голямото, здравето

4. Степенувай прилагателните имена:

висок - _____
красив - _____
мъдър - _____

Работен лист по Математика
от ресурсен учител Иванка Канева
на ученика Радослав Василев Иванов, 4 кл., ОУ"Шандор Петъофи"

1. Попълни таблиците:

множител	3	6	3	9	8	8	2	2	7
множител	2	2	4	3	3	2	4	2	4
произведение									

делимо	30	6	20				16	20	18
делител				3	3	2	4	2	2
частно	10	2	5	5	6	12			

2. Пресметни:

$3 \cdot 6 =$ $7 \cdot 6 =$ $10 \cdot 6 =$

$8 \cdot 6 =$ $5 \cdot 6 =$ $9 \cdot 6 =$

$4 \cdot 6 + 6 \cdot 6 =$

$3 \cdot 6 + 10 \cdot 6 =$

$7 \cdot 6 + 9 \cdot 5 =$

$8 \cdot 6 + 4 \cdot 5 =$

$9 \cdot 6 + 6 \cdot 0 =$

$125 \cdot 6 =$

$65 \cdot 6 =$

$432 \cdot 6 =$

$(12 + 69) \cdot 6 =$

$(34 + 65) \cdot 6 =$

Работен лист по Математика
от ресурсен учител Иванка Канева
на ученика Радослав Василев Иванов, 4 кл., ОУ"Шандор Петьофи"

1. Попълни таблицата:

събираемо	30	69	136	786	821	322	223	221	712
събираемо	22	23	467	108	139	299	434	232	423
сбор									

2. а) Напиши **5** числа, първото от които е **2**, а всяко следващо е с **6 пъти по-голямо** от предходното.

--	--	--	--	--	--	--	--	--	--	--	--

б) Напиши **5** числа, първото от които е **36**, а всяко следващо е с **6 пъти по-малко** от предходното.

--	--	--	--	--	--	--	--	--	--	--	--

3. Топка струва 6 лева. Колко лева струват?

- а) 4 такива топки;
- б) 7 такива топки;
- в) 5 такива топки;
- г) 9 такива топки;

4. Попълни пропуснатите числа в редицата:

а) 3, 6, 9, __, 15, __, 21, __.

б) 15, 20, __, __, __, 40, __, __.

в) 28, 24, __, __, __, 8, __.

Работен лист по БЕЛ
от ресурсен учител Иванка Канева
на ученичката Азизе Фериде Мюмюн, 4 кл., ОУ"Шандор Петьофи"

1. Подчертайте буквите на гласните букви в текста.

То ни е беличко, то ние е сладко,
то се усмихва на мен и на батко,
само защо нито дума не знае,
та да се чудя и да се мая,
като заплаче, като записка,
точно какво ли, горкичкото, иска.

2. Подреди думите в изречение и го напиши.

море на Райна е

3. Колко съгласни звука има думата ЗДРАВЕ?

- а) две
- б) три
- в) четири

4. Колко срички има думата КАЛИНКА?

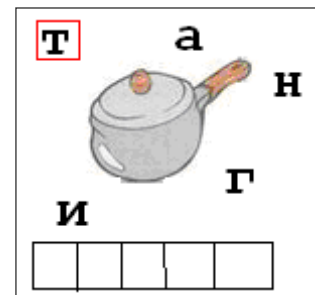
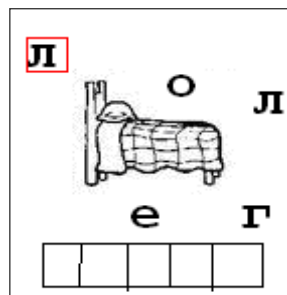
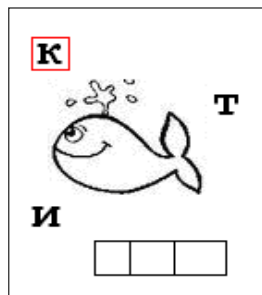
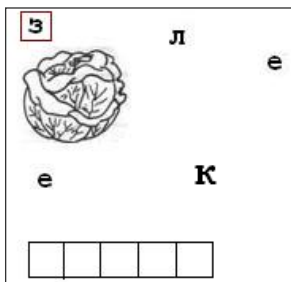
- а) три
- б) четири
- в) пет

5. Попълнете пропуснатите букви

А, Б, □, Г, □, □, Ж, □, И, Й, □, □, □, Н, □, □, □, □, Т, □, □, Ц

Работен лист по БЕЛ
от ресурсен учител Иванка Канева
на ученичката Азизе Фериде Мюмюн, 4 кл., ОУ"Шандор Петьофи"

1. Подреди буквите в думи и ги запишете в празните квадратчета.
Оцветете гласни и съгласни звукове:



2. Открой звуковете /Зз, Тт, Вв, Пп/, назови и огради техните букви.

Жж Зз Пп Ии Кк
Аа Фф Ее Гг Оо Рр
Вв ъъ Цц Уу Тт Юю

3. Препиши текста ръкописно:

Есен е. В гората е тихо. Листата леко падат.
Вальо и Йонка вървят по пътеката. Над покривите на
къщите летят жерави. Къде ли ще зимуват?

Работен лист по Математика
от ресурсен учител Иванка Канева
на ученичката Азизе Фериде Мюмюн, 4 кл., ОУ"Шандор Петьофи"

Зад.1. Запиши числата от 10 до 20.

--	--	--	--	--	--	--	--	--	--	--	--	--

Зад. 2. Пресметни

$10 + 6 = \square$

$15 + 5 = \square$

$15 - 13 = \square$

$17 - 13 = \square$

$14 - 4 = \square$

$20 + 0 = \square$

$14 - 12 = \square$

$12 = 19 - \square$

$18 - 10 = \square$

$18 - 6 = \square$

$17 - 4 = \square$

$2 = \square - 14$

$16 + 3 = \square$

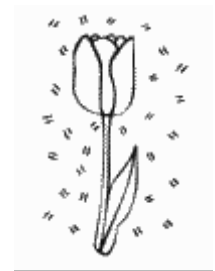
$15 - 5 = \square$

$3 + 17 = \square$

$12 = \square - 3$

Зад.3. Едното събираемото е 10 , а другото събираемо е 4.
Намерете сбора.

--	--	--	--	--	--	--	--	--	--	--	--



Зад.4. Марина откъснала 17 лалета, а Ива – 15. С колко лалетата
на Марина са повече от тези на Ива?

--	--	--	--	--	--	--	--	--	--	--	--	--

Зад.5. Начертай отсечка с дължина 4 см.

Работен лист по Математика
от ресурсен учител Иванка Канева
на ученичката Азизе Фериде Мюмюн, 4 кл., ОУ"Шандор Петьофи"

Зад.1. Пресметни:

а) $9 + 3 = \dots$
 $5 + 7 = \dots$

б) $8 + 6 = \dots$
 $7 + 9 = \dots$

в) $8 + 8 = \dots$
 $4 + 7 = \dots$

Зад. 2. Запиши неизвестното събираемо:

а) $7 + \square = 15$

б) $\square + 9 = 15$

в) $\square + 3 = 3 + 9$

$\square + 5 = 13$

$5 + \square = 14$

$8 + 4 = \square + 4$

Зад.3. Сравни: (<, =, >)

а) $16 + 2 \square 9 + 7$

б) $20 - 4 \square 7 + 6$

в) $16 + 3 \square 8 + 9$

**Зад.4. Иво имал 8 рибки. Купил си още няколко и рибките станали 12.
Колко рибки си купил Иво?**



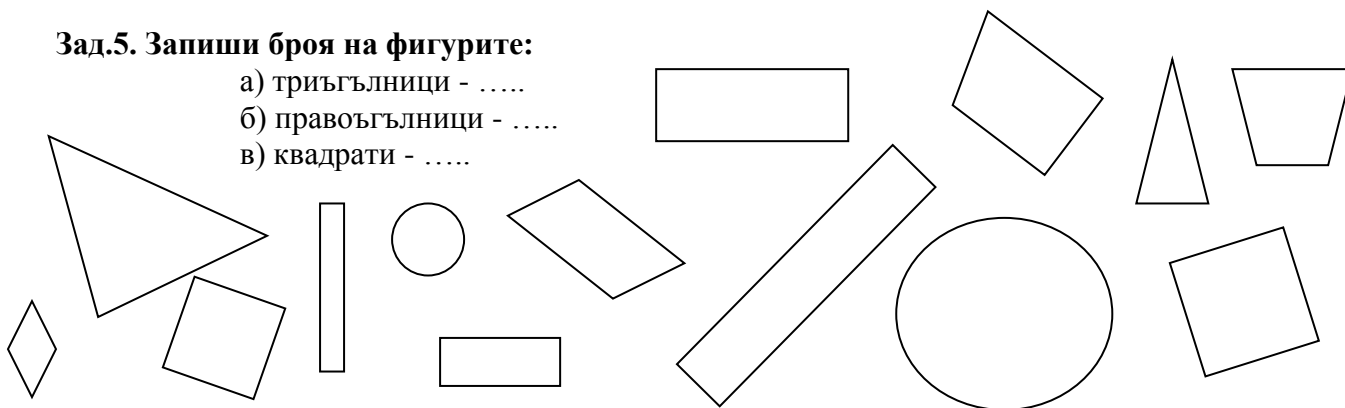
--	--	--	--	--	--	--	--	--	--	--	--	--	--	--

Зад.5. Запиши броя на фигурите:

а) триъгълници -

б) правоъгълници -

в) квадрати -



Работен лист по БЕЛ
от ресурсен учител Иванка Канева
на ученика Майк Йорданов Христов, 5 кл., ОУ"Шандор Петьофи"

1. Подчертайте буквите на гласните букви в текста.

То ни е беличко, то ние е сладко,
то се усмихва на мен и на батко,
само защо нито дума не знае,
та да се чудя и да се мая,
като заплаче, като записка,
точно какво ли, горкичкото, иска.

2. Подреди думите в изречение и го напиши.

море на Райна е

3. Колко съгласни звука има думата ЗДРАВЕ?

- а) две
- б) три
- в) четири

4. Колко срички има думата КАЛИНКА?


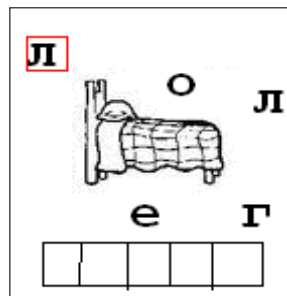
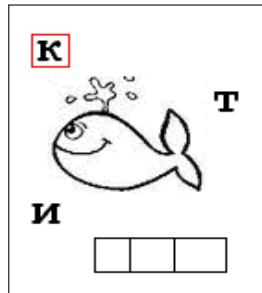
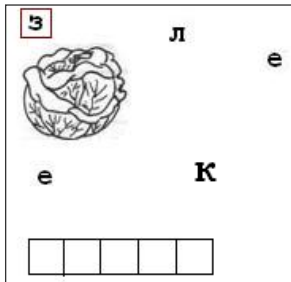
- а) три
- б) четири
- в) пет

5. Попълнете пропуснатите букви

А, Б, □, Г, □, □, Ж, □, И, Й, □, □, □, Н, □, □, □, □, Т, □, □, Ц

Работен лист по БЕЛ
от ресурсен учител Иванка Канева
на ученика Майк Йорданов Христов, 5 кл., ОУ"Шандор Петъофи"

1. Подреди буквите в думи и ги запишете в празните квадратчета.
Оцветете гласни и съгласни звукове:



2. Открийте звуковете /Кк, Тт, Вв, Пп/ назови и огради техните букви.

Жж Зз Пп Ии Кк
Аа Фф Ее Гг Оо Рр
Вв ъъ Цц Уу Тт Юю

3. Препиши текста ръкописно:

Есен е. В гората е тихо. Листата леко падат.
Вальо и Йонка вървят по пътеката. Над покривите на
къщите летят жерави. Къде ли ще зимуват?

Работен лист по Математика
от ресурсен учител Иванка Канева
на ученика Майк Йорданов Христов, 5 кл., ОУ"Шандор Петъофи"

Зад.1. Запиши числата от 10 до 20.

--	--	--	--	--	--	--	--	--	--	--	--	--

Зад. 2. Пресметни

$10 + 6 = \square$

$15 + 5 = \square$

$15 - 13 = \square$

$17 - 13 = \square$

$14 - 4 = \square$

$20 + 0 = \square$

$14 - 12 = \square$

$12 = 19 - \square$

$18 - 10 = \square$

$18 - 6 = \square$

$17 - 4 = \square$

$2 = \square - 14$

$16 + 3 = \square$

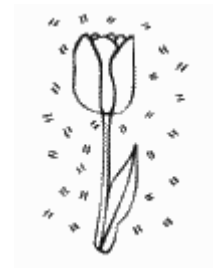
$15 - 5 = \square$

$3 + 17 = \square$

$12 = \square - 3$

Зад.3. Едното събираемото е 10 , а другото събираемо е 4.
Намерете сбора.

--	--	--	--	--	--	--	--	--	--	--	--



Зад.4. Марина откъснала 17 лалета, а Ива – 15. С колко лалетата на Марина са повече от тези на Ива?

--	--	--	--	--	--	--	--	--	--	--	--	--	--	--

Зад.5. Начертай отсечка с дължина 4 см.

Работен лист по Математика
от ресурсен учител Иванка Канева
на ученика Майк Йорданов Христов, 5 кл., ОУ"Шандор Петъфи"

Зад.1. Пресметни:

а) $9 + 3 = \dots$
 $5 + 7 = \dots$

б) $8 + 6 = \dots$
 $7 + 9 = \dots$

в) $8 + 8 = \dots$
 $4 + 7 = \dots$

Зад. 2. Запиши неизвестното събираемо:

а) $7 + \square = 15$

б) $\square + 9 = 15$

в) $\square + 3 = 3 + 9$

$\square + 5 = 13$

$5 + \square = 14$

$8 + 4 = \square + 4$

Зад.3. Сравни: (<, =, >)

а) $16 + 2 \square 9 + 7$

б) $20 - 4 \square 7 + 6$

в) $16 + 3 \square 8 + 9$

**Зад.4. Иво имал 8 рибки. Купил си още няколко и рибките станали 12.
Колко рибки си купил Иво?**



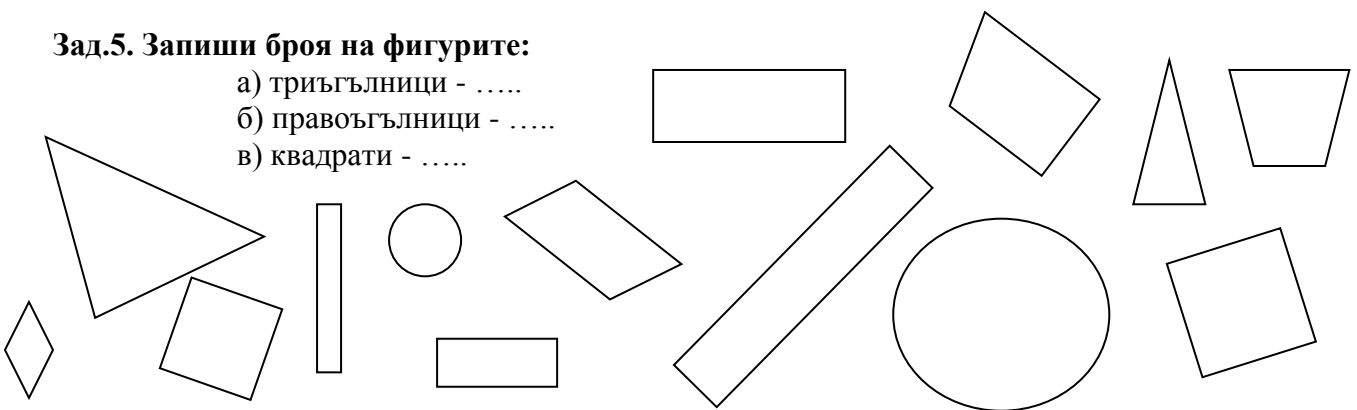
--	--	--	--	--	--	--	--	--	--	--	--	--	--	--

Зад.5. Запиши броя на фигурите:

а) триъгълници -

б) правоъгълници -

в) квадрати -



Работен лист по БЕЛ
от ресурсен учител Иванка Канева
на ученика Мерт Махмуд Расим, 5 кл., ОУ"Шандор Петьофи"

1. Добави подходящи прилагателни имена към думите!

МОЛИВ (какъв?)
ябълка (каква?)
куче (какво?)
ЦВЕТА (какви?)

2. Кое изречение е въпросително?

- а) Отивам на училище.
- б) Къде отиваш, Иване?
- в) Мила родино, ти си земен рай!

3. Постави препинателни знаци на изреченията

Къде отиваш ...
Аз обичам да чета книги ...
Иване, затвори прозореца ...
Ах, колко е красива розата ...

4. Поправи сгрешените думи

мъш, зелен, дите, четъ, дарво, пееме, хубаф
здрав, радос, къшта, гълъп, пролет, убичам

5. Подчертай съществителните имена

колело, добър, слънце, робот, дъжд, пише, дете, скача, обич,
картина, малък

6. Поправи грешките и препиши вярно:

По това време на годината обикновено вали.

Тази година Моника и нейната сестра не успяха да се пързалат с Шейна.

Госпожа Миланова и семейството ѝ бяха в чужбина за празниците.

Работен лист по БЕЛ
от ресурсен учител Иванка Канева
на ученика Мерт Махмуд Расим, 5 кл., ОУ"Шандор Петьофи"

1. Запиши знак в края на изречението / ? . ! /
Скоро ли ще дойде ваканция
Днес е прекрасен ден
Ах, какво красиво цвете

2. Отдели изреченията, като поставиш главни букви и знак в края:
днес аз имам рожден ден
дойдоха ми гости
получих много подаръци

3. Подреди думите в изречение и го запиши:
е, богатство, най- голямото, здравето

4. Степенувай прилагателните имена:

висок - _____
красив - _____
мъдър - _____

Работен лист по Математика
от ресурсен учител Иванка Канева
на ученика Мерт Махмуд Расим, 5 кл., ОУ"Шандор Петьофи"

1. Попълни таблиците:

множител	3	6	3	9	8	8	2	2	7
множител	2	2	4	3	3	2	4	2	4
произведение									

делимо	30	6	20				16	20	18
делител				3	3	2	4	2	2
частно	10	2	5	5	6	12			

2. Пресметни:

$$3 \cdot 6 = \quad 7 \cdot 6 = \quad 10 \cdot 6 =$$

$$8 \cdot 6 = \quad 5 \cdot 6 = \quad 9 \cdot 6 =$$

$$4 \cdot 6 + 6 \cdot 6 =$$

$$3 \cdot 6 + 10 \cdot 6 =$$

$$7 \cdot 6 + 9 \cdot 5 =$$

$$8 \cdot 6 + 4 \cdot 5 =$$

$$9 \cdot 6 + 6 \cdot 0 =$$

$$125 \cdot 6 =$$

$$65 \cdot 6 =$$

$$432 \cdot 6 =$$

$$(12 + 69) \cdot 6 =$$

$$(34 + 65) \cdot 6 =$$

Работен лист по Математика
от ресурсен учител Иванка Канева
на ученика Мерт Махмуд Расим, 5 кл., ОУ"Шандор Петьофи"

1. Попълни таблицата:

събираемо	30	69	136	786	821	322	223	221	712
събираемо	22	23	467	108	139	299	434	232	423
сбор									

2. а) Напиши **5** числа, първото от които е **2**, а всяко следващо е **с 6 пъти по-голямо** от предходното.

--	--	--	--	--	--	--	--	--	--	--	--

б) Напиши **5** числа, първото от които е **36**, а всяко следващо е **с 6 пъти по-малко** от предходното.

--	--	--	--	--	--	--	--	--	--	--	--

3. Топка струва 6 лева. Колко лева струват?

- а) 4 такива топки;
- б) 7 такива топки;
- в) 5 такива топки;
- г) 9 такива топки;

4. Попълни пропуснатите числа в редицата:

а) 3, 6, 9, , 15, , 21, .

б) 15, 20, , , , 40, , .

в) 28, 24, , , , 8, .

5. Намери обиколката на равностранен триъгълник със страна 6 сантиметра.

Работен лист по БЕЛ
от ресурсен учител Иванка Канева
на ученика Искрен Снежев Атанасов, 7 кл., ОУ"Шандор Петъофи"

1. Открий и зачертай посочената буква!

З С Х И З Х Н И А К И А Х Е О Х И З Й З И Х Ц

С К О А С К Ш В С Е Я В Р С Щ О Е С У В Ф

2. Образувай думи от сричките и ги запиши.

Зо	ра	_____
Ве		_____
Но		_____

3. Зачеркни грешната буква. Напишете дума за проверка:

б	в	т	ж
дъ	лъ	обя	гара
п	ф	д	ш

4. Напиши:

Един ред с букви и срички (А, у, З, з, р, К, ц, С, с, мъ, зи, ру, ос, ха, се)

Един ред думи (море,зеле, банан, село, слънце, ято)

Работен лист по Математика
от ресурсен учител Иванка Канева
на ученика Искрен Снежев Атанасов, 7 кл., ОУ"Шандор Петъфи"

Зад.1. Пресметни:

а) $5 + 3 = \dots$
 $5 + 4 = \dots$

б) $3 + 6 = \dots$
 $7 + 1 = \dots$

в) $2 + 8 = \dots$
 $4 + 3 = \dots$

Зад. 2. Запиши неизвестното събираемо:

а) $7 + \square = 10$

б) $\square + 9 = 10$

в) $\square + 3 = 3 + 5$

$\square + 5 = 8$

$5 + \square = 7$

$3 + 4 = \square + 4$

Зад.3. Сравни: (<, =, >)

а) $1 + 2 \square 1 + 7$

б) $6 - 4 \square 1 + 6$

в) $6 + 3 \square 8 + 2$



**Зад.4. Иво имал 8 рибки. Купил си още няколко и рибките станали 12.
Колко рибки си купил Иво?**

--	--	--	--	--	--	--	--	--	--	--	--	--	--	--

Зад.5. Запиши броя на фигурите:

а) триъгълници -

б) правоъгълници -

в) квадрати -

